

# UNIVERSITÀ POLITECNICA DELLE MARCHE

Esame di Stato di abilitazione all'esercizio della professione di Dottore Agronomo e Dottore Forestale

I Sessione: GIUGNO 2017  
Seconda prova scritta: 22 GIUGNO 2017  
Temi busta A

A1 – In un vigneto di un'azienda biologica, a seguito di un effetto deriva avvenuto durante un trattamento fitosanitario effettuato in un appezzamento limitrofo da parte di una azienda convenzionale, il prodotto derivante da sei file di metri 120 ciascuna di lunghezza non potrà essere commercializzato come biologico. Il candidato valuti il danno subito dal viticoltore.

A2 – Al proprietario conduttore di un fondo rustico di ha 25,00 viene espropriata una fascia di terreno per la realizzazione di una strada pubblica. La superficie interessata dall'esproprio è di ha 1,50, dei quali ha 0,75 destinati a colture seminative e la restante parte destinata a frutteto. La sede del cantiere occuperà inoltre, per un periodo di mesi 36, una superficie di ha 0,40 attualmente a seminativo. Il candidato dopo aver descritto il fondo e definito il suo ordinamento colturale, determini la competente indennità di esproprio e di occupazione ai sensi della vigente normativa.

A3 – Un'amministrazione comunale si appresta a porre all'asta un lotto boschivo a ceduo ed un altro ad alto fusto.

Il candidato dopo aver descritto brevemente le caratteristiche ambientali dell'area, proceda a:

1. descrivere in modo sintetico, ma esaustivo, i tipi di bosco indicando i necessari parametri;
2. descrivere le modalità che intende adottare per il rilievo e la stima della massa ritraibile dal taglio;
3. stimare il valore di macchiatico dei due lotti;
4. stimare il più probabile valore di mercato dei due lotti.

La commissione

*Cesare Folpe ped* *M*  
*Orsola S* *Dyloped*  
*Raffi B* *M*  
*Maurizio Donati* *A. P.*

# UNIVERSITÀ POLITECNICA DELLE MARCHE

Esame di Stato di abilitazione all'esercizio della professione di Dottore Agronomo e Dottore Forestale

I Sessione: GIUGNO 2017  
Seconda prova scritta: 22 GIUGNO 2017  
Temi busta B

B1 – In un'azienda nota al candidato un incendio sviluppatosi per responsabilità di terzi ha provocato danni sia totali che parziali ad un impianto arboreo da frutto dell'età di anni 8 esteso ha 2,00. Il candidato dopo aver descritto l'azienda, l'ambiente ed i danni arrecati alla coltura, valuti l'entità di questi ultimi.

B2 – Al proprietario conduttore di un fondo rustico di ha 12,00 viene asservita una fascia di terreno per il passaggio di un metanodotto che si sviluppa per una lunghezza di metri 150. I primi 70 metri attraversano un frutteto intensivo e la rimanente parte un seminativo.


Il candidato, dopo aver descritto il fondo e definito il suo ordinamento culturale, determini l'entità della superficie oggetto di asservimento e la conseguente indennità ai sensi della vigente normativa.



B3 – Un terreno boscato di ha 32 in un ambiente di conoscenza del candidato, è interessato dalla realizzazione di una strada pubblica che lo dividerà in due parti uguali sottraendo ha 2 di superficie.

Il candidato proceda a:

1. descrivere brevemente le caratteristiche ambientali dell'area;
2. descrivere in modo sintetico, ma esaustivo, il tipo di bosco indicando i necessari parametri;
3. stimare il valore di mercato del bosco prima della realizzazione della strada;
4. stimare il valore di mercato del bosco dopo la realizzazione della strada;
5. determinare il danno generato dall'opera pubblica.

La commissione

  
Oscar  
C. Mer. Bomepok  
Ruffo  
Maurizio Donnell

  
U. G. P. P. P. P. P.  
  
P. P. P. P. P.