

**ESAME DI STATO DI ABILITAZIONE ALL'ESERCIZIO DELLA PROFESSIONE DI
AGRONOMO E FORESTALE JUNIOR
(ai sensi del D.P.R. 328/2001)
1^a sessione: GIUGNO 2015**

TEMI GRUPPO A

SECONDA PROVA SCRITTA – 30 GIUGNO 2015

Traccia 1

Il candidato valuti la convenienza economica di un intervento di diradamento di giovane fustaia di castagno su una particella forestale di circa 3 ettari, con caratteristiche stazionali a sua scelta, in base al tipo di assortimenti legnosi ritraibili.

Traccia 2

Il candidato risponda ad almeno tre delle seguenti domande:



1) Un imprenditore agricolo acquista una trattrice per un valore di 40.000 €. Non avendo l'intera somma contrae un mutuo con un istituto di credito per 30.000 €. al tasso del 4% e per una durata di 4 anni. Si chiede l'importo della rata annua da restituire e il piano di ammortamento.




2) un fondo della superficie di 1,5 Ha coltivato a mais subisce un danno da cinghiali nel mese di settembre. Elabori una quantificazione del danno precisando il metodo applicato (frutti pendenti o anticipazioni colturali).

3) Il candidato, sapendo che un vigneto produce 220 q.li di uva dalla quale si ricavano 150 q.li di vino e 50 q.li di vinacce e che le spese di trasformazione dell'uva in vino ammontano complessivamente a €. 4.600,00, assumendo i dati mancanti determini se vi è convenienza ad effettuare la trasformazione.

4) Un fondo agricolo per otto anni, e fino ad oggi, è stato invaso ripetutamente da acque meteoriche provenienti da una errata regimazione sui fondi sovrastanti ed in particolare dall'inefficienza dei pozzetti di pertinenza della Strada Provinciale. Il candidato, facendo riferimento ad un'area a lui nota, descriva solo il procedimento da seguire per la quantificazione del danno all'attualità (2015).

5) Spieghi il concetto di valore complementare e faccia un esempio.



M. Cravette
M. Cravette
M. Cravette
M. Cravette

**ESAME DI STATO DI ABILITAZIONE ALL'ESERCIZIO DELLA PROFESSIONE DI
AGRONOMO E FORESTALE JUNIOR
(ai sensi del D.P.R. 328/2001)
1^a sessione: GIUGNO 2015**

TEMI GRUPPO B

SECONDA PROVA SCRITTA – 30 GIUGNO 2015


Traccia 1

Il candidato descriva modalità e costi per la realizzazione di impianto di arboricoltura da legno, in un appezzamento agricolo a sua scelta della superficie minima di 3 ettari.


Traccia 2

Il candidato risponda ad almeno tre delle seguenti domande:

- 1) un fondo della superficie di 2,5 Ha coltivato a girasole subisce un danno da cinghiali nel mese di agosto. Elabori una quantificazione del danno precisando il metodo applicato (frutti pendenti o anticipazioni colturali).
- 2) Giudizi di convenienza economica dei miglioramenti fondiari.
- 3) Per l'acquisto di una trattrice si spendono €. 40.000,00. Sapendo che la durata media è di 10 anni e che il valore finale sarà del 20% del prezzo di acquisto, il candidato determini la quota di reintegra.
- 4) Stima delle scorte vive.



Handwritten signatures on the left side of the page, including a large signature at the top, followed by several smaller ones, some of which appear to be names like 'M. Corubetta', 'M. P. P.', and 'Bozzy'.



Handwritten signatures on the right side of the page, including a large signature at the top, followed by several smaller ones, some of which appear to be names like 'M. P. P.', 'M. P. P.', and 'M. P. P.'.